

## ПРОМЕЖУТОЧНАЯ АТТЕСТАЦИЯ ПО ТЕХНОЛОГИИ 7 КЛАСС

### Кулинария

**1. Вставьте пропущенное слово в высказывании Сократа (древнегреческий философ)**  
«Мы живем не для того, чтобы \_\_\_\_\_, а едим для того, чтобы \_\_\_\_\_».

**2. Для максимального сохранения в овощах минеральных солей их:**

- а) варят очищенными;
- б) запекают в духовом шкафу;
- в) жарят на растительном масле.

**3. Подберите принципы рационального питания:**

- а) частый прием пищи;
- б) правильный режим питания;
- в) обильный прием пищи;
- г) умеренность в употреблении пищи;
- д) раздельное питание;
- е) разнообразное питание.

**4. Внимательно изучите рисунок сервировки стола.**

Для какого приёма пищи выполнена сервировка?



Ответ: \_\_\_\_\_

**5. Вставьте пропущенное слово:**

... был известен человеку уже в Древнем Египте. В Древней Греции богатство человека определялось тем, сколько ..... подносили гостям. Спартанцы ели .... только по праздникам.

### Материаловедение

**6. Все текстильные волокна делятся на натуральные и:**

- а) растительные
- б) минеральные
- в) химические
- г) синтетические
- д) искусственные

**7. Определите соответствие между источниками получения волокон и длиной волокна:**

- |           |                   |
|-----------|-------------------|
| 1. лен    | а. 2 – 5 см       |
| 2. хлопок | б. 20 – 45 см     |
| 3. шелк   | в. 40 – 120 см    |
| 4. шерсть | г. 6000 – 9000 см |

**Ответ:** \_\_\_\_\_

**8. Прочные и ровные нити в ткани:**

- а) уточные;
- б) фасонные;
- в) основные.

**9. К технологическим свойствам тканей относятся:**

- а) прочность
- б) водопроницаемость
- в) драпируемость
- г) осыпаемость
- д) усадка

#### Машиноведение

**10. Чем больше номер на машинной игле, тем сама игла:**

- а) толще
- б) тоньше

**Ответ:** \_\_\_\_\_

**11. В бытовой швейной машине имеются регуляторы:**

- а) длины стежка
- б) ширины стежка
- в) ширины зигзага
- г) натяжения верхней нити

#### Технология обработки швейных изделий

**12. Перевод выкройки на ткань осуществляется при помощи:**

- а) сметочных стежков
- б) резца
- в) копировальных стежков
- г) портновского мела

**13. Направление долевой нити учитывают:**

- а) для наиболее экономного раскроя ткани
- б) чтобы избежать вытягивания изделия в процессе носки
- в) чтобы изделие меньше сминалось

**14. Прибавка – это:**

- а) величина, необходимая при обработке изделия машинными швами, выраженная в сантиметрах и учитываемая при раскрое.
- б) величина, прибавляемая к размеру мерки на свободное облегание одежды.

**15. При обработке нижнего среза изделия применяют швы**

- а) стачной
- б) обтачной

в) вподгибку с закрытым срезом

г) двойной

д) вподгибку с открытым срезом

**16. Вставьте пропущенные слова:**

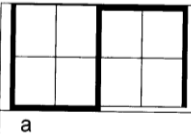
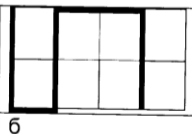
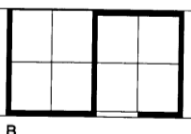
Тёплые цвета ..... объём фигуры человека, а холодные.....

Слова для справок: увеличивают, уменьшают.

**.Рукоделие**

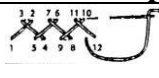


**17. Для составления орнамента ученица использовала следующий алгоритм из стрелок:**

↓ ↓ → → ↑ ↑ → → ↓ ↓    Какой рисунок у нее получится?

 а	 б	 в
--	--	--

Ответ: \_\_\_\_\_

**18. Установите соответствие между названием ручных стежков и их изображением**

1. назад иголку	А	
2. «козлик»	Б	
3. петельный	В	

Ответ: \_\_\_\_\_

**Интерьер жилого помещения**

**19. Продолжите предложение**

При выборе или оформлении жилища особое внимание уделяют трём основным качествам

интерьера: \_\_\_\_\_

**20. После пересаживания комнатное растение следует поставить:**

- а) на подоконник на яркое солнце;
- б) на пол в холодном и влажном помещении;
- в) в теплое слегка затененное место;
- г) на балкон на яркое солнце;